

Hodnotenie _____ % ,

body: ____ /56 b,

známka:

1. Dopln chýbajúce čísla v číselnom rade. / 2b

<input type="text"/>	49	<input type="text"/>	<input type="text"/>	52	<input type="text"/>
----------------------	----	----------------------	----------------------	----	----------------------

<input type="text"/>	98	<input type="text"/>	<input type="text"/>	95	<input type="text"/>
----------------------	----	----------------------	----------------------	----	----------------------

2. Dopln chýbajúce čísla postupností. / 2b

<input type="text"/>	<input type="text"/>	35	39	43	<input type="text"/>
----------------------	----------------------	----	----	----	----------------------

<input type="text"/>	68	75	82	<input type="text"/>	<input type="text"/>
----------------------	----	----	----	----------------------	----------------------

3. Porovnaj a zisti o koľko viac / menej. / 6b

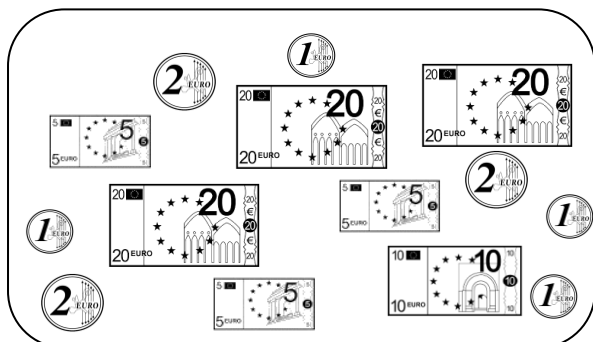
8	<input type="text"/>	68
o ____		

70	<input type="text"/>	20
o ____		

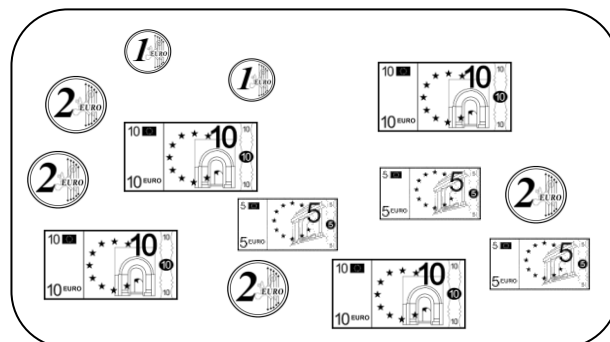
35	<input type="text"/>	30
o ____		

4. Vyfarbi správne. / 2b

82 eur



38 eur



5. Vypočítaj. / 9b

$60 - 40 =$	<input type="text"/>
$5 + 80 =$	<input type="text"/>
$100 - 70 =$	<input type="text"/>

$80 + 20 =$	<input type="text"/>
$34 - 4 =$	<input type="text"/>
$50 + 7 =$	<input type="text"/>

$90 - 30 + 20 =$	<input type="text"/>
$25 + 5 + 30 =$	<input type="text"/>
$49 - 9 + 60 =$	<input type="text"/>

6. Napíš čísla správne. / 2b

9 jednotiek 7 desiatok

5 desiatok 2 jednotky

7. Zapiš číslom. / 6b

dvadsaťosem	<input type="text"/>
päťdesiat	<input type="text"/>
sedemnášť	<input type="text"/>

osemdesiatdeväť	<input type="text"/>
šesťdesiatšesť	<input type="text"/>
štyridsaťtri	<input type="text"/>

8. Dopln' vynechané čísla.

..... / 6b

$$73 - \square = 70$$
$$8 + \square = 38$$

$$48 - \square = 8$$
$$50 + \square = 54$$

$$\square + 8 = 68$$
$$\square - 60 = 40$$

9. Vyrieš slovnú úlohu.

..... / 8 b

Jurko mal 30 kociek. Od Mirka si požičal 20 kociek a od Evky ešte 4 kocky. **Koľko kociek má Jurko teraz ?**

Mal _____

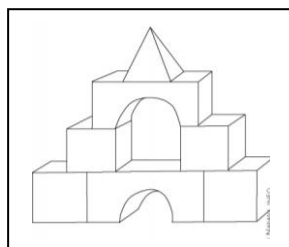
Od Mirka _____

Od Evky _____

Teraz má ?

Výpočet: _____

Odpoveď: _____



V obchode vyložili 50 rožkov. Neskôr ešte niekoľko doložili. Teraz je tam 57 rožkov.

Koľko rožkov doložili?

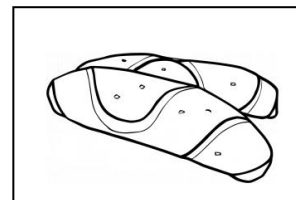
Upiekli _____

Teraz je _____

Doložili ?

Výpočet: _____

Odpoveď: _____



10. Geometria.

..... / 13b

Narysuj rovnú čiaru. **Vyznač** bod **P** tak, **aby ležal** na čiare. / 2b

Nakresli krivú čiaru. **Vyznač** bod **M** tak, **aby neležal** na čiare. / 2b

Vyznač tri rôzne body **a označ** ich. / 3b

Narysuj tri priamky **a označ** ich. / 3b

Vyznač bod **S**. **Narysuj** priamky m , n tak, aby bod **S** bol priesečník priamok m , n / 3b